

Β



ΜΑΘΗΜΑΤΙΚΑ Β' ΤΑΞΗΣ

ΟΝΟΜΑ:.....

ΕΝΟΤΗΤΑ 4η


24β. ΒΡΙΣΚΩ ΤΗΝ ΠΡΟΠΑΙΔΕΙΑ ΤΟΥ 10

© stintaxi.com














Τα παιδιά ζαναπαίζουν κρυφτό και αυτός που τα φυλάει ανεβαίνει τώρα δέκα τους αριθμούς. Μπορείς να γράψεις πώς μετράει;

0	10	20
---	----	----	-------	-------	-------	-------	-------	-------	-------	-------



Κάθε συσκευασία περιέχει 10 δίσκους. Μπορείς να υπολογίσεις πόσοι υπάρχουν συνολικά σε κάθε σειρά; Υπολόγισε με πρόσθεση και με πολλαπλασιασμό:

	10	$1 \times 10 = 10$
	$10 + 10 = 20$	$2 \times 10 = 20$
	$10 + 10 + 10 = \dots$	$3 \times 10 = \dots$
	$10 + 10 + 10 + 10 = \dots$	$\dots \times 10 = \dots$
	$10 + 10 + 10 + 10 + 10 = \dots$	$\dots \times 10 = \dots$
	$10 + 10 + 10 + 10 + 10 + 10 = \dots$	$\dots \times 10 = \dots$
	$10 + 10 + 10 + 10 + 10 + 10 + 10 = \dots$	$\dots \times 10 = \dots$
	$10 + 10 + 10 + 10 + 10 + 10 + 10 + 10 = \dots$	$\dots \times 10 = \dots$
	$10 + 10 + 10 + 10 + 10 + 10 + 10 + 10 + 10 = \dots$	$\dots \times 10 = \dots$
	$10 + 10 + 10 + 10 + 10 + 10 + 10 + 10 + 10 + 10 = \dots$	$10 \times 10 = \dots$



Πόσα χρήματα υπάρχουν σε κάθε πακέτο; Υπολόγισε με δύο τρόπους:



$$10 + 10 + 10 = 30 \text{ €}$$

ή αλλιώς: $3 \times 10 = 30 \text{ €}$



.....

ή αλλιώς: x =




.....

ή αλλιώς: x =



.....

ή αλλιώς: x =



Πόσα χρήματα υπάρχουν σε κάθε πακέτο; Υπολόγισε μόνο με πολλαπλασιασμό:



$$2 \times 10 = 20 \text{ λ.}$$




..... x =



..... x =



..... x =



Τι ταιριάζει σε κάθε στήλη; Προσπάθησε να κάνεις τις σωστές αντιστοιχίσεις:


$10 + 10 + 10 + 10 + 10$ • • 7×10 • • 40


$10 + 10$ • • 2×10 • • 70

$10 + 10 + 10 + 10 + 10 + 10 + 10$ • • 5×10 • • 20


$10 + 10 + 10 + 10 + 10 + 10$ • • 6×10 • • 50

$10 + 10 + 10 + 10$ • • 4×10 • • 60






Σε κάθε πορτοκαλιά υπάρχουν 10 πορτοκάλια. Μπορείς να βρεις ποια είναι κάθε φορά η σωστή απάντηση; Βάλε \checkmark στο σωστό κουτάκι και έπειτα βρες και πόσα είναι όλα τα πορτοκάλια:



10 x 10

10 + 2

2 x 10




6 πορτοκαλιές με 10 πορτοκάλια η καθεμιά

10 πορτοκαλιές με 6 πορτοκάλια η καθεμιά

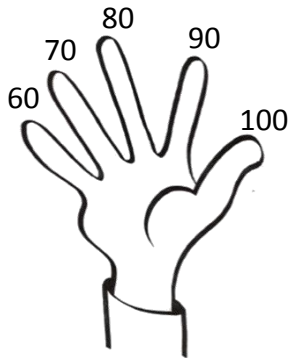
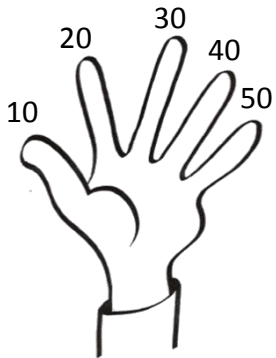
10 + 6

Όλα τα πορτοκάλια είναι

Όλα τα πορτοκάλια είναι



Λες πώς μπορείς εύκολα να υπολογίζεις την προπαίδεια του 10 χρησιμοποιώντας πάλι τα δάχτυλά σου. Έπειτα συμπλήρωσε τα κενά με τους σωστούς αριθμούς:



6 x 10 =


3 x 10 =

9 x 10 =

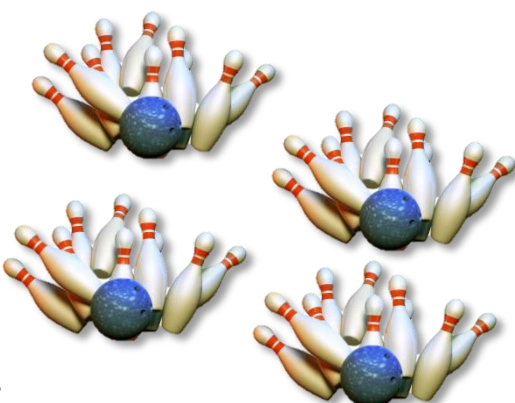
5 x 10 =

2 x 10 =

7 x 10 =



Η Λουκία παίζει μπόουλινγκ. Σε κάθε βολή ρίχνει 10 κορίνες. Μπορείς να βρεις πόσες κορίνες έριξε όλες μαζί κάνοντας πολλαπλασιασμό;



Εκτιμώ: Με 4 βολές έριξε κορίνες.

Υπολογίζω:

Απαντώ:

.....