



ΟΝΟΜΑ:.....




Τα παιδιά παίζουν κρυφό και αυτός που τα φυλάει ανεβαίνει πέντε πέντε τους αριθμούς. Μπορείς να γράψεις πώς μετράει;

0	5	10	50
---	---	----	-------	-------	-------	-------	-------	-------	-------	----



Πόσα δάχτυλα είναι σε κάθε σειρά χεριών; Υπολόγισε και με τις προσθέσεις και με τον πολλαπλασιασμό:

	5	$1 \times 5 = 5$
	$5 + 5 = 10$	$2 \times 5 = 10$
	$5 + 5 + 5 = \dots$	$3 \times 5 = \dots$
	$5 + 5 + 5 + 5 = \dots$	$\dots \times 5 = \dots$
	$5 + 5 + 5 + 5 + 5 = \dots$	$\dots \times 5 = \dots$
	$5 + 5 + 5 + 5 + 5 + 5 = \dots$	$\dots \times 5 = \dots$
	$5 + 5 + 5 + 5 + 5 + 5 + 5 = \dots$	$\dots \times 5 = \dots$
	$5 + 5 + 5 + 5 + 5 + 5 + 5 + 5 = \dots$	$\dots \times 5 = \dots$
	$5 + 5 + 5 + 5 + 5 + 5 + 5 + 5 + 5 = \dots$	$\dots \times 5 = \dots$
	$5 + 5 + 5 + 5 + 5 + 5 + 5 + 5 + 5 + 5 = \dots$	$10 \times 5 = \dots$




Πόσα χρήματα υπάρχουν σε κάθε πακέτο; Υπολόγισε με δύο τρόπους:



$$5 + 5 = 10$$

ή αλλιώς: $2 \times 5 = 10$



.....

ή αλλιώς: x =




.....

ή αλλιώς: x =



.....

ή αλλιώς: x =



Πόσα χρήματα υπάρχουν σε κάθε πακέτο; Υπολόγισε μόνο με πολλαπλασιασμό:



$$3 \times 5 = 15$$




..... x =



..... x =



..... x =



Τι ταιριάζει σε κάθε στήλη; Προσπάθησε να κάνεις τις σωστές αντιστοιχίσεις:


$5 + 5 + 5$ • • 6×5 • • 40


$5 + 5 + 5 + 5 + 5 + 5$ • • 3×5 • • 15

$5 + 5 + 5 + 5 + 5 + 5 + 5 + 5 + 5 + 5$ • • 8×5 • • 30


$5 + 5 + 5 + 5 + 5$ • • 5×5 • • 50

$5 + 5 + 5 + 5 + 5 + 5 + 5 + 5 + 5$ • • 10×5 • • 25






Σε κάθε καλάθι υπάρχουν 5 μήλα. Μπορείς να βρεις ποια είναι κάθε φορά η σωστή απάντηση; Βάλε \checkmark στο σωστό κουτάκι και έπειτα βρες και τα σύνολα των μήλων:



3×5

$3 + 3 + 3$

5×3




5 μήλα με 4 καλάθια το καθένα

4 καλάθια με 5 μήλα το καθένα

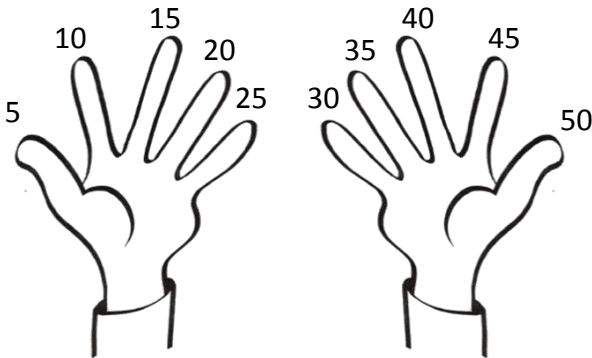
$4 + 4 + 4 + 4 + 4$

Όλα τα μήλα στα καλάθια είναι

Όλα τα μήλα στα καλάθια είναι



Δες πώς μπορείς εύκολα να υπολογίζεις την προπαίδεια του 5 χρησιμοποιώντας τα δάχτυλά σου. Έπειτα συμπλήρωσε τα κενά με τους σωστούς αριθμούς:



$5 \times 5 = \dots\dots$



$2 \times 5 = \dots\dots$

$7 \times 5 = \dots\dots$

$4 \times 5 = \dots\dots$

$1 \times 5 = \dots\dots$

$8 \times 5 = \dots\dots$



Σε κάθε ανθοδοχείο υπάρχουν 5 λουλούδια. Μπορείς να βρεις πόσα είναι όλα μαζί τα λουλούδια κάνοντας πολλαπλασιασμό;



Εκτιμώ: Όλα μαζί τα λουλούδια είναι

Υπολογίζω:

Απαντώ:

.....