

B

ΜΑΘΗΜΑΤΙΚΑ Β' ΤΑΞΗΣ


ΟΝΟΜΑ:.....



ΕΝΟΤΗΤΑ 2η

12. ΥΠΟΛΟΓΙΖΟ ΤΑ ΡΕΣΤΑ

© stintaxi.com



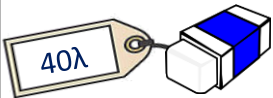
Πόσα ρέστα πήρε κάθε παιδί μετά από αυτό που αγόρασε;



Αγόρασα τη σοκολάτα και έδωσα 1€ και 50λ



Αγόρασα το τετράδιο και έδωσα 2€



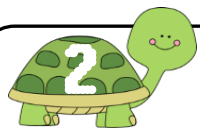
Αγόρασα τη γόμα και έδωσα 1€



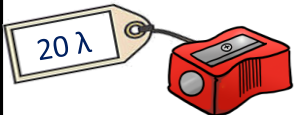
Αγόρασα το παγωτό και έδωσα 5€



Ρέστα



Πόσα ρέστα θα πάρει κάθε παιδί; Συμπλήρωσε το κουτάκι και ζωγράφισε έπειτα τα ρέστα στο ηλαίσιο:



Αγόρασα την ξύστρα και έδωσα 1€

Ρέστα.....



Αγόρασα την κόλλα και έδωσα 1€ και 50λ


Ρέστα.....



Αγόρασα το μολύβι και έδωσα 2€


Ρέστα.....






Δες τις αγορές, υπολόγισε τα ρέστα και γράψε στο μικρό κουτάκι Σ, αν έγιναν σωστά ή Λ, αν έγιναν λάθος:

	Αγόρασα μία μπάλα που κοστίζει 2€	Έδωσα 3€	Πήρα ρέστα 1€	<input type="checkbox"/>
	Αγόρασα ένα αυτοκινητάκι που κοστίζει 2€ και 50λ	Έδωσα 4€	Πήρα ρέστα 2€	<input type="checkbox"/>
	Αγόρασα ένα αεροπλανάκι που κοστίζει 3€ και 80λ	Έδωσα 5€	Πήρα ρέστα 1€ και 20λ	<input type="checkbox"/>
	Αγόρασα ένα αρκουδάκι που κοστίζει 4€ και 20λ	Έδωσα 5€	Πήρα ρέστα 1€ και 80λ	<input type="checkbox"/>



Ο Γιώργος θέλει να αγοράσει το ρομπότ της εικόνας. Έχει στην τσέπη του 10 €. Πόσα χρήματα θα πάρει ρέστα;




Εκτιμώ: Θα πάρει ρέστα.....

Ζωγραφίζω τα ρέστα:

Απαντώ:

.....



Η Ρένα έχει στο πορτοφόλι της τα χρήματα που βλέπεις στην εικόνα.



Μπορεί να αγοράσει και τα δύο παιχνίδια;

Ποιο παιχνίδι θα αγοράσει ώστε να μη χρειαστεί να πάρει καθόλου ρέστα;

Αν πάρει το άλλο παιχνίδι, πόσα χρήματα θα έχει πλέον στο πορτοφόλι;