



ΟΝΟΜΑ:.....



Τα βέλη που έριξε ο μικρός ινδιάνος ψάχνουν να βρουν το στόχο τους. Πού θα χτυπήσει το καθένα; Συνέχισε με γραμμή μέχρι το σωστό στόχο:

$24 + 13$   
 $32 + 36$   
 $43 + 4$   
 $75 + 14$   
 $51 + 45$


68  
 96  
 89  
 37  
 47




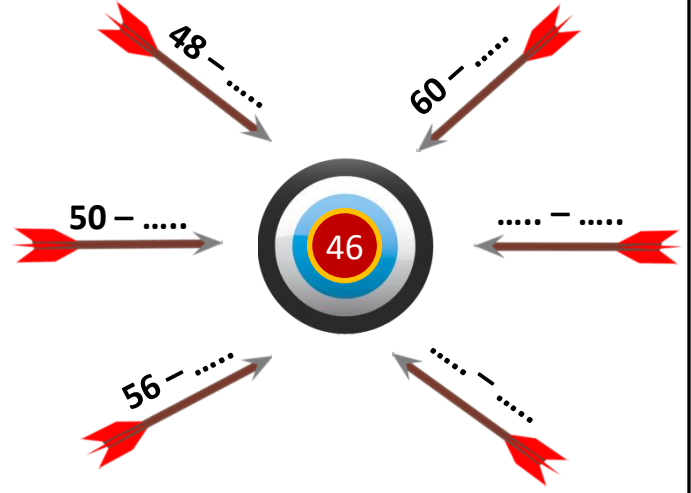
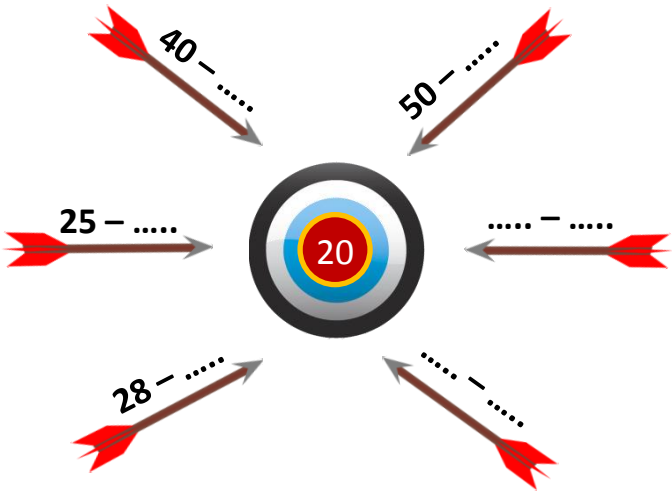
Μπορείς να συμπληρώσεις τα κενά, ώστε κάθε φορά να φτάνεις στον αριθμό στόχο;

$40 + \dots$   
 $35 + \dots$   
 $60 + \dots$   
 $69 + \dots$   
 $\dots + \dots$

$50 + \dots$   
 $55 + \dots$   
 $40 + \dots$   
 $51 + \dots$   
 $\dots + \dots$



Μπορείς τώρα κάνοντας αφαίρεση να συμπληρώσεις τα κενά, ώστε κάθε φορά να φτάνεις στον αριθμό στόχο;




Ο Γιώργος έχει 20 κάρτες με αυτοκίνητα και 19 με αεροπλάνα. Πόσες κάρτες έχει συνολικά;



Εκτιμώ: Ο Γιώργος έχει ..... κάρτες.

Υπολογίζω:

Απαντώ: Ο Γιώργος έχει ..... κάρτες.



Η Νεφέλη έχει στον κουμπαρά της 32 €. Θέλει να αγοράσει τα αγαπημένα της αθλητικά παπούτσια, τα οποία κοστίζουν 68 €. Πόσα χρήματα πρέπει να μαζέψει ακόμα;



Εκτιμώ: Χρειάζεται ακόμα ..... €

Υπολογίζω:

Απαντώ: .....