




ΟΝΟΜΑ:.....



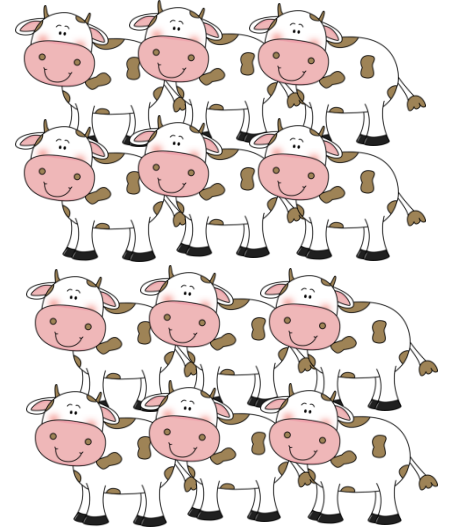
Δες τις επόμενες εικόνες, κύκλωσε τα μισά από τα ζώακια που υπάρχουν κάθε φορά και συμπλήρωσε τα κείμενα:




Όλα τα πρόβατα είναι .....  
Τα μισά είναι .....




Όλες οι κόττες είναι .....  
Οι μισές είναι .....




Όλα τα μοσχάρια είναι .....  
Τα μισά είναι .....




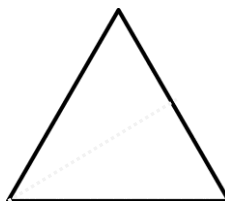
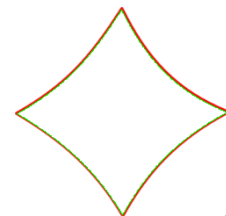
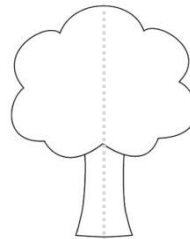
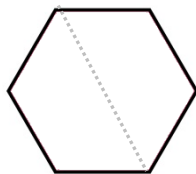
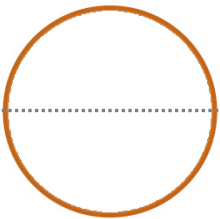
Όλα τα άλογα είναι .....  
Τα μισά είναι .....




Όλοι οι σκύλοι είναι .....  
Οι μισοί είναι .....




Ζωγράφισε τα μισά από τα επόμενα σχήματα:





Ποια είναι η μισή αξία των χρημάτων; Αντιστοίχισε τα χρήματα επάνω με τα μισά τους κάτω:





Ποιο είναι το μισό κάθε αριθμού; Συμπλήρωσε τα κυκλάκια:

100

20

90



18

14



Ποιοι είναι οι ολόκληροι αριθμοί; Συμπλήρωσε τα ορθογώνια:


[ ]

[ ]



[ ]

[ ]



Διάβασε τις προτάσεις, σκέψου και προσπάθησε να συμπληρώσεις τα κενά:

Τα παιδιά της γειτονιάς παίζουν ποδόσφαιρο. Τα μισά παιδιά είναι στη μία ομάδα και τα υπόλοιπα 3 είναι στην άλλη.

Όλα τα παιδιά είναι .....

Αν έρθουν άλλα τόσα, τότε όλα τα παιδιά θα είναι ..... και θα μπορούν να χωριστούν σε δύο ομάδες που η καθεμιά θα έχει από ..... παιδιά!

