
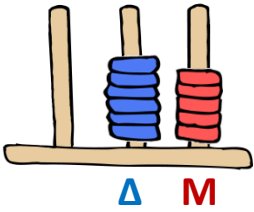
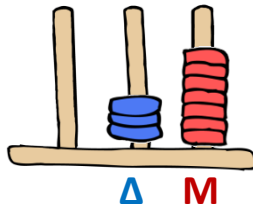


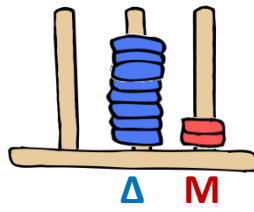
ΟΝΟΜΑ:.....

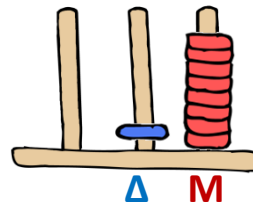


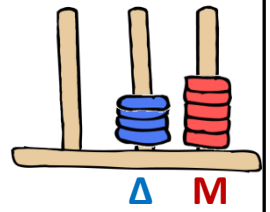
Παρατήρησε προσεκτικά τους άβακες και γράψε σε κάθε κουτάκι τον αριθμό που δείχνουν:















Τοποθέτησε τώρα τους αριθμούς που έγραψες στην προηγούμενη εργασία, με τη σειρά, από το μικρότερο μέχρι το μεγαλύτερο:

..... < < < <




Μπορείς να αντιστοιχίσεις όσα είναι ίσα μεταξύ τους;

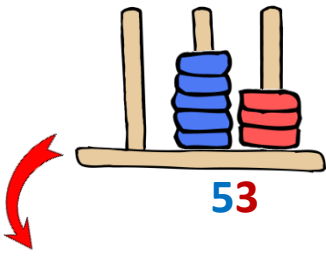
- | | | | |
|-----------------------------------|---|---|----|
| Είκοσι έξι | • | • | 35 |
| Τριάντα και πέντε | • | • | 26 |
| $70 + 1$ | • | • | 58 |
| $10 + 10 + 10 + 10 + 10 + 8$ | • | • | 71 |
| Ενενήντα και εννιά | • | • | 68 |
| $40 + 3$ | • | • | 43 |
| $10 + 10 + 10 + 10 + 10 + 10 + 8$ | • | • | 99 |

Εύκολο, ε;

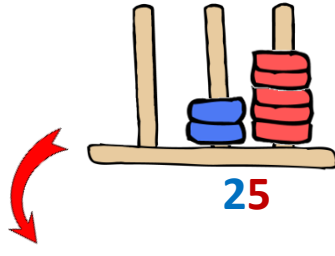
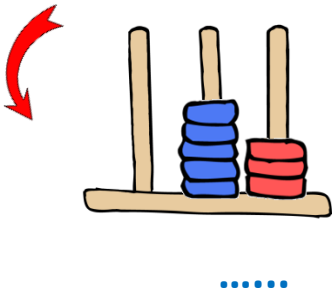




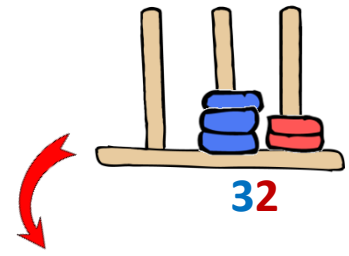

Με βάση τις οδηγίες προσπάθησε να σχεδιάσεις στους κάτω άβακες και να γράψεις τους αντίστοιχους αριθμούς στις τελίτσες:





Σχεδιάσε στη σωστή στήλη **ακόμα 3 Μονάδες** και γράψε στις τελίτσες το νέο αριθμό:



Σχεδιάσε στη σωστή στήλη **ακόμα 2 Δεκάδες** και γράψε στις τελίτσες το νέο αριθμό:



Σχεδιάσε με τέτοιο τρόπο **ότι χρειάζεται** ώστε να προκύψει ο αριθμός 76:



Οχ! Κάτι είναι πάνω από το παιδάκι που κολυμπάει!
Ένωσε τις τελίτσες για να δεις τι είναι (αν θέλεις, μπορείς έπειτα να ζωγραφίσεις την εικόνα):

Το βρήκα...

