



ΟΝΟΜΑ:.....



Παρατήρησε προσεκτικά την εικόνα και προσπάθησε να απαντήσεις στις ερωτήσεις:




- Πόσα είναι τα παιδιά που βρίσκονται μέσα στη θάλασσα; .....
- Πόσα είναι τα παιδιά που βρίσκονται στην παραλία; .....
- Πόσα είναι όλα τα παιδιά; .....
- Αν έρθουν ακόμα 4 παιδιά, πόσα θα είναι όλα μαζί; .....
- Αν υπήρχαν ακόμα 3 σωσίβια, πόσα παιδιά θα μπορούσαν να κολυμπήσουν συνολικά; .....




Μπορείς να συμπληρώσεις τους αριθμούς που λείπουν από τον πίνακα;

1	2	3				7			<b>10</b>
11					16				
								39	
	42								
									<b>70</b>
						77			
			94						



Το βατραχάκι πηδάει στους αριθμούς ανά δύο. Μπορείς να γράψεις στις τελίτσες τους αριθμούς που φτάνει κάθε φορά;



Ένωσε τις τελίτσες για να ολοκληρωθούν οι εικόνες (αν θέλεις, μπορείς έπειτα να τις ζωγραφίσεις):

Από το 1 ως το 50 (ανά ένα)

Από το 5 ως το 100 (ανά πέντε)