




ΜΑΘΗΜΑΤΙΚΑ Β' ΤΑΞΗΣ

ΕΝΟΤΗΤΑ 4η

26. ΒΡΙΣΚΩ ΤΗΝ ΠΡΟΠΑΙΔΕΙΑ ΤΟΥ 8

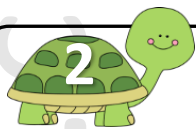
© stintaxi.com

ΟΝΟΜΑ:.....



Μπορείς να συμπληρώσεις τα κενά μπαλόνια με τους διπλάσιους αριθμούς;


--	--	--	--	--	--	--	--	--	--




Πόσα πόδια έχει κάθε χταπόδι; Πόσα πόδια έχουν όλα τα χταπόδια σε κάθε περίπτωση; Υπολόγισε με πρόσθεση και με πολλαπλασιασμό:




$1 \times 8 = 8$




$2 \times 8 = 16$




$3 \times 8 = \dots$




$\dots \times 8 = \dots$




$\dots \times 8 = \dots$




$\dots \times 8 = \dots$




$\dots \times 8 = \dots$




$\dots \times 8 = \dots$



$\dots \times 8 = \dots$




$10 \times 8 = \dots$



Σε κάθε συσκευασία υπάρχουν 8 μολύβια. Μπορείς να βρεις πόσες είναι όλες μαζί οι μολύβια σε κάθε ομάδα; Υπολόγισε με δύο τρόπους:



.....  
ή αλλιώς: ..... x ..... = .....



.....  
ή αλλιώς: ..... x ..... = .....



.....  
ή αλλιώς: ..... x ..... = .....




.....  
ή αλλιώς: ..... x ..... = .....



Κάθε πίτσα είναι χωρισμένη σε 8 κομμάτια. Πόσα κομμάτια πίτσας υπάρχουν συνολικά; Υπολόγισε μόνο με πολλαπλασιασμό:



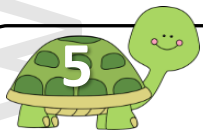
.... x ..... = .....



..... x ..... = .....




..... x ..... = .....



Τι ταιριάζει σε κάθε στήλη; Προσπάθησε να κάνεις τις σωστές αντιστοιχίες:

8	•	•	5 x 8	•	•	8
8 + 8 + 8 + 8 + 8	•	•	1 x 8	•	•	40
8 + 8 + 8 + 8 + 8 + 8 + 8 + 8 + 8	•	•	6 x 8	•	•	72
8 + 8 + 8 + 8 + 8 + 8	•	•	9 x 8	•	•	48
8 + 8 + 8 + 8 + 8 + 8 + 8	•	•	7 x 8	•	•	56





Κάθε αράχνη έχει 8 πόδια. Πόσα πόδια έχουν όλες μαζί; Μπορείς να βρεις ποια είναι κάθε φορά η σωστή απάντηση; Βάλε  $\checkmark$  στο σωστό κουτάκι και έπειτα βρες πόσα πόδια έχουν όλες οι αράχνες:



$8 \times 2$

$3 \times 8$

$8 + 8$

$2 + 8$

$3 + 8$

$7 \times 8$

$2 \times 8$


$3 \times 3$

$7 + 8$

Όλα τα πόδια είναι .....

Όλα τα πόδια είναι .....

Όλα τα πόδια είναι .....

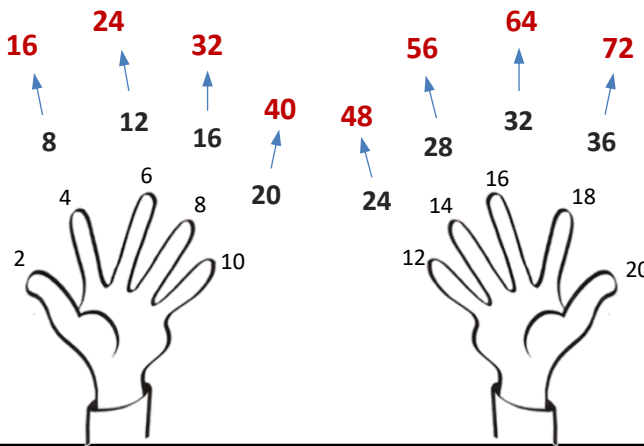


Θυμάσαι πώς υπολογίζουμε με τα δάχτυλα τις προπαίδειες του 2 και του 4; Δες έναν εύκολο τρόπο να υπολογίζουμε και του 8. Έπειτα συμπλήρωσε τα κενά με τους σωστούς αριθμούς:

Για την προπαίδια του 8, σκέψου πρώτα πόσο κάνει η αντίστοιχη του 4 και έπειτα διπλασίασε τον αριθμό



προπαίδια του 8  
προπαίδια του 4  
προπαίδια του 2



$3 \times 8 = \dots$

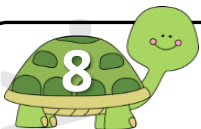
$6 \times 8 = \dots$

$2 \times 8 = \dots$

$4 \times 8 = \dots$

$8 \times 8 = \dots$

$5 \times 8 = \dots$



Στη σκακιέρα υπάρχουν 8 σειρές τετραγωνάκια με 8 τετραγωνάκια στην κάθε σειρά. Πόσα είναι όλα τα τετραγωνάκια;

Εκτιμώ: Όλα τα τετραγωνάκια είναι .....

Υπολογίζω:

Απαντώ: .....

.....

