


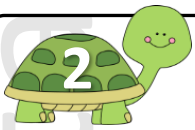
ΟΝΟΜΑ:.....



Δες τους αριθμούς στις φανέλες των παιχτών και τοποθέτησέ τους με τη σειρά, από το μικρότερο μέχρι το μεγαλύτερο:




..... < ..... < ..... < ..... < ..... < ..... < .....



Αν υπήρχε στην προηγούμενη εικόνα παίχτης με τον αριθμό 33, ανάμεσα από ποιους αριθμούς παικτών θα τον τοποθετούσες;

..... < 33 < .....




Τι ηλικία έχει κάθε παιδί; Μπορείς να ζωγραφίσεις τα κεράκια στην τούρτες;

Μιχάλης



Κατερίνα

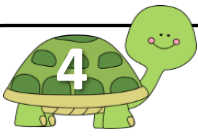


Γιώργος




Η Κατερίνα είναι δύο χρόνια μεγαλύτερη από τον Μιχάλη.

Ο Γιώργος είναι τρία χρόνια μικρότερος από την Κατερίνα.

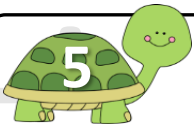


Ο κύριος Σπύρος έχει κατάστημα με αθλητικά είδη. Στο ράφι έχει παπούτσια κόκκινα, πράσινα και μπλε. Πόσα παπούτσια έχει από κάθε χρώμα;

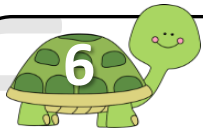
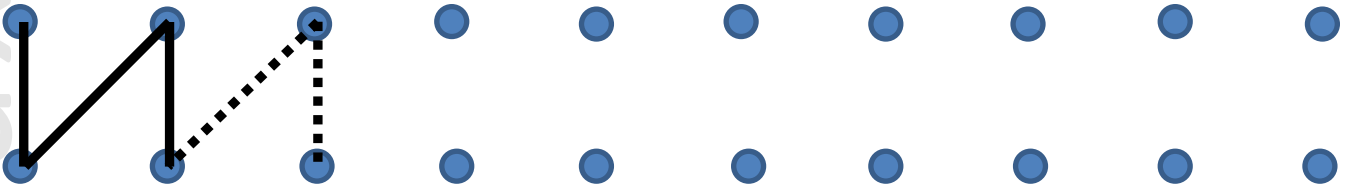


$$\boxed{\phantom{00}} + \boxed{\phantom{00}} + \boxed{\phantom{00}} = \boxed{24}$$

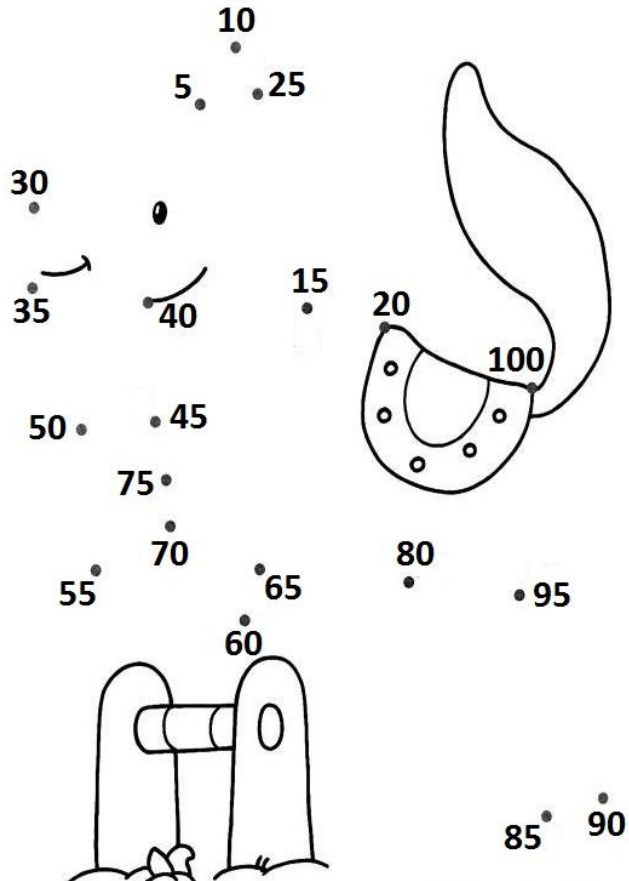
κόκκινα      πράσινα      μπλε      σύνολο



Συνέχισε με χάρακα τις γραμμές στο σχέδιο:



Τι να δείχνει άραγε η εικόνα;  
Ένωσε τις τελίτσες μετρώντας πέντε πέντε για να δεις τι είναι (αν θέλεις, μπορείς έπειτα να ζωγραφίσεις την εικόνα):



Να το σχεδιάσω  
εγώ;

