




ΜΑΘΗΜΑΤΙΚΑ Β' ΤΑΞΗΣ

ΕΝΟΤΗΤΑ 1η



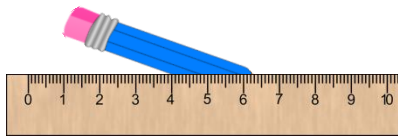

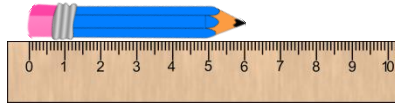
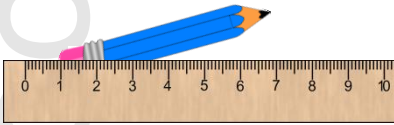
4. ΜΕΤΡΩ ΜΕ ΕΚΑΤΟΣΤΟΜΕΤΡΑ

© stintaxi.com

ΟΝΟΜΑ:.....




Σε μία μόνο από τις επόμενες εικόνες το μολύβι μετριέται σωστά. Μπορείς να βρεις σε ποια και να την κυκλώσεις;



Μέτρησε με το χάρακά σου και γράψε το μήκος των επόμενων αντικειμένων:



..... εκατοστά




..... εκατοστά



..... εκατοστά




..... εκατοστά



..... εκατοστά



..... εκατοστά



Μπορείς να μετρήσεις το μήκος των επόμενων γραμμών;

..... εκατοστά

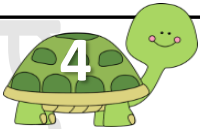
..... εκατοστά

..... εκατοστά



..... εκατοστά

..... εκατοστά

..... εκατοστά

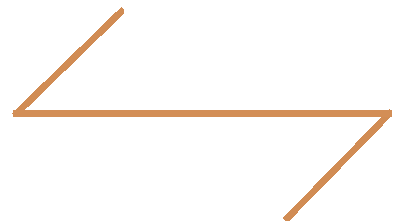



Σχεδιάσε με το χάρακά σου μία γραμμή με μήκος 3 εκατοστά και άλλη μία με μήκος 8 εκατοστά:



Ποια από τις δύο γραμμές είναι πιο μακριά; Πρώτα σκέψου και γράψε την εκτίμησή σου ΔΙΧΩΣ ΝΑ ΜΕΤΡΗΣΕΙΣ. Έπειτα χρησιμοποίησε το χάρακά σου και έλεγξε την εκτίμησή σου:

Εκτιμώ: Πιο μακριά είναι η.....



Μετρώ και υπολογίζω: Η γραμμή στα αριστερά έχει μήκος ..... εκατοστά.

Η γραμμή στα δεξιά έχει μήκος ..... εκατοστά.

Μεγαλύτερη είναι η γραμμή στα .....