
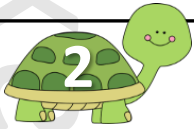
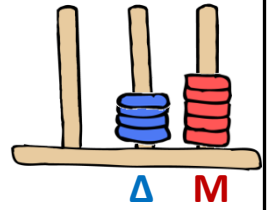
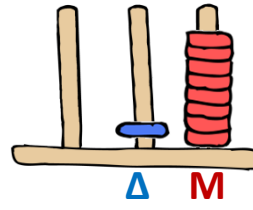
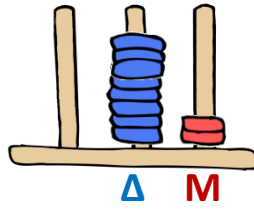
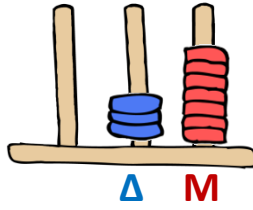
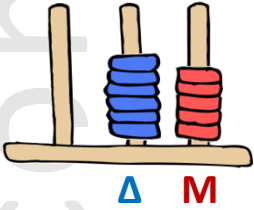




ΟΝΟΜΑ:.....

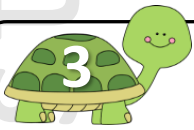


Παρατήρησε προσεκτικά τους άβακες και γράψε σε κάθε κουτάκι τον αριθμό που δείχνουν:



Τοποθέτησε τώρα τους αριθμούς που έγραψες στην προηγούμενη εργασία, με τη σειρά, από το μικρότερο μέχρι το μεγαλύτερο:

..... < < < <




Μπορείς να αντιστοιχίσεις όσα είναι ίσα μεταξύ τους;

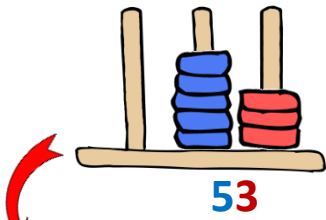
- | | | | |
|---------------------------------|---|---|----|
| Είκοσι έξι | • | • | 35 |
| Τριάντα και πέντε | • | • | 26 |
| 70 + 1 | • | • | 58 |
| 10 + 10 + 10 + 10 + 10 + 8 | • | • | 71 |
| Ενενήντα και εννιά | • | • | 68 |
| 40 + 3 | • | • | 43 |
| 10 + 10 + 10 + 10 + 10 + 10 + 8 | • | • | 99 |

Εύκολο, ε;

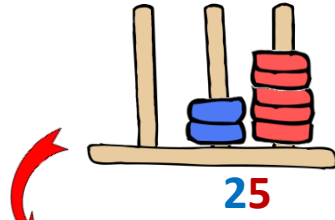
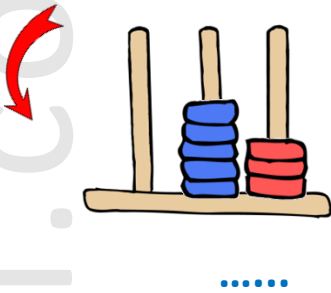




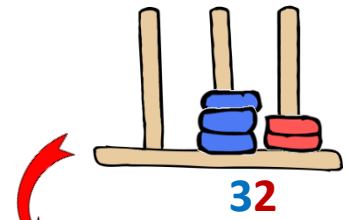

Με βάση τις οδηγίες προσπάθησε να σχεδιάσεις στους κάτω άβακες και να γράψεις τους αντίστοιχους αριθμούς στις τελίτσες:





Σχεδιάσε στη σωστή στήλη **ακόμα 3 Μονάδες** και γράψε στις τελίτσες το νέο αριθμό:



Σχεδιάσε στη σωστή στήλη **ακόμα 2 Δεκάδες** και γράψε στις τελίτσες το νέο αριθμό:





Σχεδιάσε με τέτοιο τρόπο **ότι χρειάζεται** ώστε να προκύψει ο αριθμός 76:



Ωχ! Κάτι είναι πάνω από το παιδάκι που κολυμπάει!
Ένωσε τις τελίτσες για να δεις τι είναι (αν θέλεις, μπορείς έπειτα να ζωγραφίσεις την εικόνα):

Το βρήκα...



www.pointapoint.com