



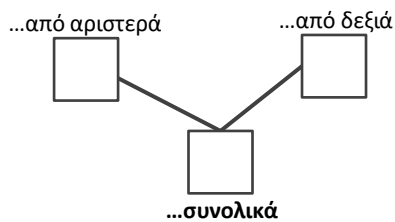
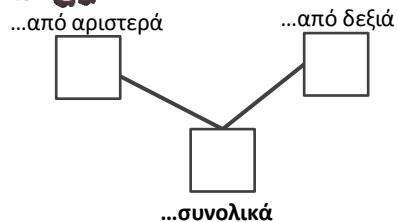

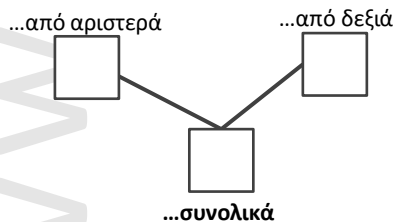
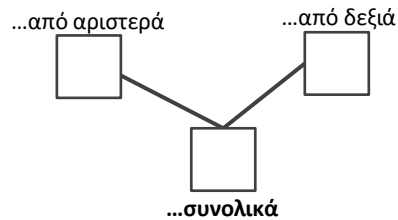

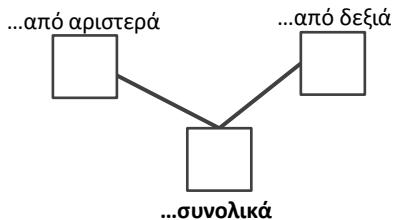

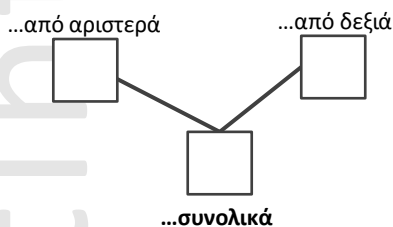

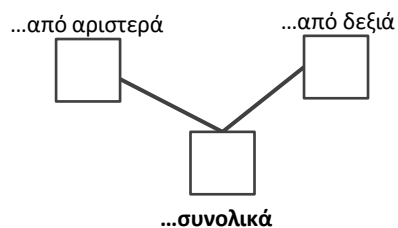

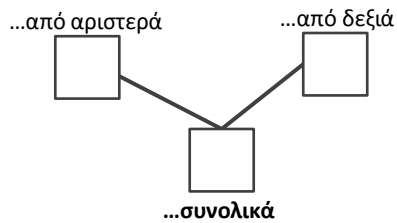

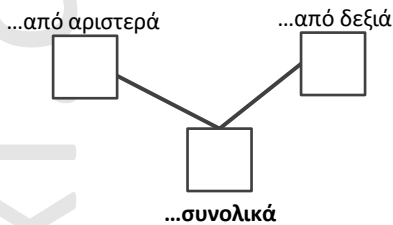

ΜΑΘΗΜΑΤΙΚΑ Α΄ ΤΑΞΗΣ

1.7 «Πρόσθεση και ανάλυση των αριθμών μέχρι το 5»

ΟΝΟΜΑ:.....



Πόσα ζώακια έρχονται από αριστερά και πόσα από δεξιά; Πόσα είναι συνολικά; Συμπλήρωσε τα κουτάκια γράφοντας τους αριθμούς:



Γράψε σε κάθε κουτάκι τον αριθμό που είναι και στο πρώτο:

0									
1									
2									


3									
4									
5									



Από τα πιατάκια λείπουν κερασιάκια. Δες πόσα θα έπρεπε να είναι, πόσα είναι και ζωγράφισε αυτά που λείπουν. Μην ξεχάσεις να συμπληρώσεις και τα κουτάκια, γράφοντας τους κατάλληλους αριθμούς:

...υπάρχουν

...λείπουν




5

...συνολικά

...υπάρχουν

...λείπουν

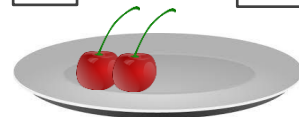


4

...συνολικά

...υπάρχουν

...λείπουν




3

...συνολικά

...υπάρχουν

...λείπουν

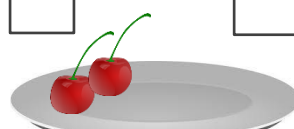


5

...συνολικά

...υπάρχουν

...λείπουν

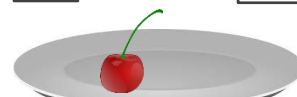


4

...συνολικά

...υπάρχουν

...λείπουν

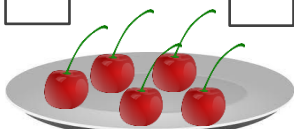


2

...συνολικά

...υπάρχουν

...λείπουν



5

...συνολικά

...υπάρχουν

...λείπουν




4

...συνολικά

...υπάρχουν

...λείπουν



2

...συνολικά



Μπορείς να βρεις και να γράψεις τον προηγούμενο και τον επόμενο αριθμό από αυτόν που είναι στο κουτάκι;

