



ΜΑΘΗΜΑΤΙΚΑ Α΄ ΤΑΞΗΣ

1.5 και 1.6 Επανάληψη στη γραφή των αριθμών 0 – 5

ΟΝΟΜΑ:.....



Χρωμάτισε με όποιο χρώμα θέλεις τους αριθμούς που βλέπεις δίπλα:



Τα παιδάκια έχουν γενέθλια! Μπορείς να βρεις την ηλικία τους; Κύκλωσε το σωστό αριθμό και γράψε τον κι εσύ στο κενό κουτάκι:

| | | | | |
|--------------------------|--------------------------|--------------------------|--------------------------|--------------------------|
| 1 2 3 4 5 | 1 2 3 4 5 | 1 2 3 4 5 | 1 2 3 4 5 | 1 2 3 4 5 |
| | | | | |
| <input type="checkbox"/> | <input type="checkbox"/> | <input type="checkbox"/> | <input type="checkbox"/> | <input type="checkbox"/> |




Πόσες σταγονίτσες βροχής πέφτουν από κάθε συννεφάκι; Γράψε στα κυκλάκια τους αριθμούς:

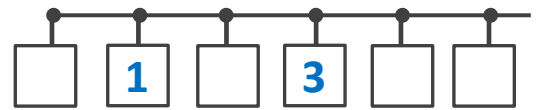
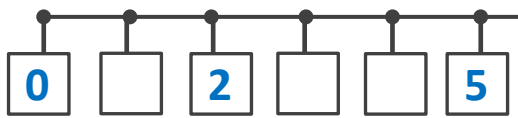
| | | |
|--|--|--|
| | | |
| | | |



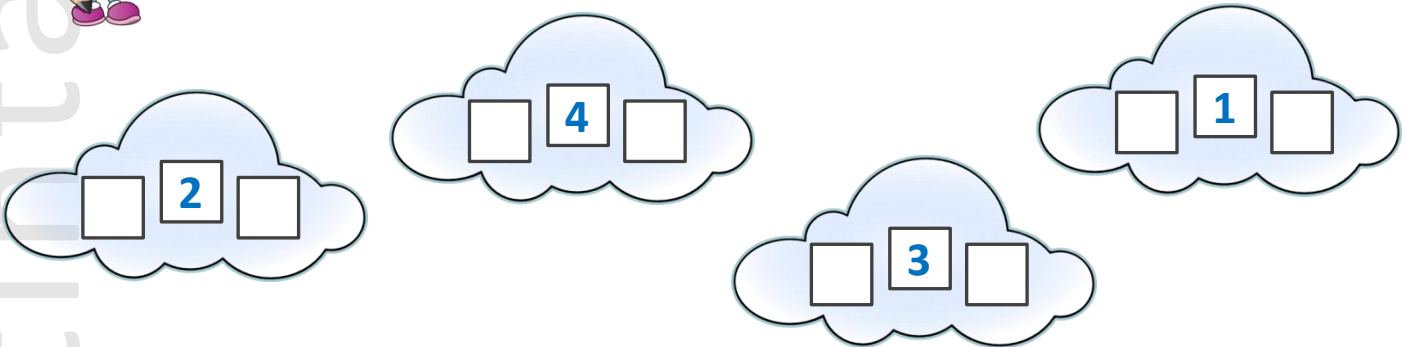
Σε ποιο σκαλοπάτι βρίσκεται κάθε φορά το βατραχάκι; Γράψε τον αντίστοιχο αριθμό, όπως στο παράδειγμα:



Συμπλήρωσε τις αριθμογραμμές με τους αριθμούς που λείπουν:



Μπορείς να βρεις και να γράψεις τον προηγούμενο και τον επόμενο αριθμό από αυτόν που είναι στο κουτάκι;



Με ποιους αριθμούς μοιάζουν τα επόμενα σχήματα; Βρες τους και γράψε τους στα αντίστοιχα κουτάκια:

