



ΟΝΟΜΑ:.....



Πόσα είναι τα αρνάκια; Αντιστοίχισε πρώτα από πάνω με τα δαχτυλάκια κι έπειτα από κάτω με τους αριθμούς:



| | | | | |
|--|--|--|--|--|
| | | | | |
| | | | | |








Πόσα είναι τα παιδιά σε κάθε σειρά; Κύκλωσε το σωστό αριθμό!

| | | | | | |
|---|---|---|---|---|--|
| 1 | 2 | 3 | 4 | 5 | |
| 1 | 2 | 3 | 4 | 5 | |
| 1 | 2 | 3 | 4 | 5 | |
| 1 | 2 | 3 | 4 | 5 | |
| 1 | 2 | 3 | 4 | 5 | |



Κύκλωσε σε κάθε σειρά τόσες μπάλες όσες λέει ο αριθμός:

| | |
|---|---|
| 4 |  |
| 2 |  |
| 5 |  |
| 1 |  |
| 3 |  |



Σχεδιάσε μέσα στους μεγάλους κύκλους τόσα τριγωνάκια, όσα λέει ο αριθμός στο μικρό κύκλο.

Activity area for drawing triangles inside large circles based on the numbers in the small circles:

- Small circle with number 2 points to a large empty circle.
- Small circle with number 4 points to a large empty circle.
- Small circle with number 3 points to a large empty circle.
- Small circle with number 5 points to a large empty circle.
- Small circle with number 1 points to a large empty circle.