



ΜΑΘΗΜΑΤΙΚΑ Α΄ ΤΑΞΗΣ

1.5 «Αρίθμηση, ανάγνωση και γραφή αριθμών (1,2,3)»


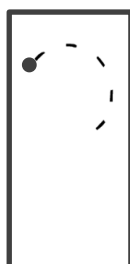
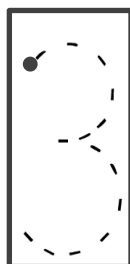
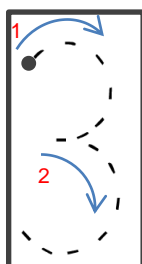


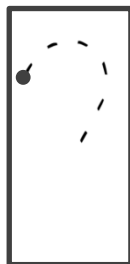
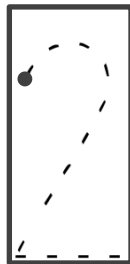
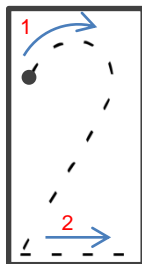


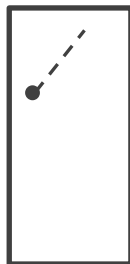
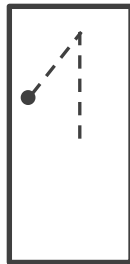
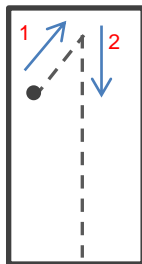
ΟΝΟΜΑ:.....



Χρωμάτισε με όποιο χρώμα θέλεις τους αριθμούς που βλέπεις δίπλα:






Λες πόσα είναι τα αντικείμενα, διάβασε δυνατά τον αριθμό και έπειτα γράψε τον δίπλα, με την ορθή φορά (όπως σου δείχνουν τα βελάκια):





Πόσα φρούτα είναι παρακάτω; Ένωσε με γραμμές με τους αντίστοιχους αριθμούς:






1

2

3



Πόσα μολύβια είναι σε κάθε κύκλο; Γράψε στα κουτάκια τους αριθμούς:



Προσοχή! Οι αριθμοί κρύφτηκαν μέσα στις επόμενες εικόνες. Μπορείς να τους ανακαλύψεις; Αν τους βρεις, πέρασέ τους από πάνω με ένα χρώμα και γράψε έπειτα σε κάθε κουτάκι ποιοι είναι:

