

ΟΝΟΜΑ:.....



Πόσα είναι τα αρνάκια; Αντιστοίχισε πρώτα από πάνω με τα δαχτυλάκια κι έπειτα από κάτω με τους αριθμούς:










Πόσα είναι τα παιδιά σε κάθε σειρά; Κύκλωσε το σωστό αριθμό!

1 2 3 4 5	
1 2 3 4 5	
1 2 3 4 5	
1 2 3 4 5	
1 2 3 4 5	



Κύκλωσε σε κάθε σειρά τόσες μπάλες όσες λέει ο αριθμός:

4	
2	
5	
1	
3	



Σχεδιάσε μέσα στους μεγάλους κύκλους τόσα τριγωνάκια, όσα λέει ο αριθμός στο μικρό κύκλο.

Activity area for drawing triangles inside large circles based on the numbers in the small circles:

- Small circle with number 2 points to a large empty circle.
- Small circle with number 4 points to a large empty circle.
- Small circle with number 3 points to a large empty circle.
- Small circle with number 5 points to a large empty circle.
- Small circle with number 1 points to a large empty circle.